


































Финансовая грамотность

Классы	1 задание	2 задание	3 задание																
1	<p>Что нужно семье</p> <p>1. Где расходов больше?</p> <table border="1" style="width: 100%; height: 150px;"> <tr> <td style="text-align: center; vertical-align: middle;">  Семья 1 </td> <td style="text-align: center; vertical-align: middle;">  Семья 2 </td> </tr> <tr> <td style="text-align: center; vertical-align: middle;">  Семья 3 </td> <td style="text-align: center; vertical-align: middle;">  </td> </tr> </table> <p>Подсчитайте и запишите количество членов в каждой семье.</p> <p>Семья 1 _____</p> <p>Семья 2 _____</p> <p>Семья 3 _____</p> <p>У какой семьи самые большие расходы?</p> <p>Ответ: _____</p>	 Семья 1	 Семья 2	 Семья 3		<p>Покупки для семьи</p>  <p>Найдите расходы, которые являются наименее важными для семьи. Красным карандашом подчеркните расходы, от которых можно отказаться, если денег не хватает.</p> <table style="width: 100%;"> <tr> <td style="text-align: center;">ЗУБНАЯ ПАСТА</td> <td style="text-align: center;">ПОЕЗДКА НА КУРОРТ</td> <td style="text-align: center;">КОРМ ДЛЯ СОБАКИ</td> </tr> <tr> <td style="text-align: center;"></td> <td style="text-align: center;"></td> <td style="text-align: center;"></td> </tr> <tr> <td style="text-align: center;"></td> <td style="text-align: center;"></td> <td style="text-align: center;">НОВАЯ МОДНАЯ КУРТКА</td> </tr> <tr> <td style="text-align: center;">ОБЕД В КАФЕ</td> <td style="text-align: center;">ХЛЕБ</td> <td style="text-align: center;"></td> </tr> </table> <p>ПРОЕЗДНОЙ БИЛЕТ НА</p>	ЗУБНАЯ ПАСТА	ПОЕЗДКА НА КУРОРТ	КОРМ ДЛЯ СОБАКИ						НОВАЯ МОДНАЯ КУРТКА	ОБЕД В КАФЕ	ХЛЕБ		<p>Расходы Зайчихи</p> <p>Мама Зайчиха потратила:</p> <p>3 монетки на покупку продуктов для ужина;</p> <p>1 монетку на то, чтобы починить сломанные часы;</p> <p>2 монетки на оплату телефона за месяц.</p>  <p>Подсчитайте сумму расходов Зайчихи.</p> <p>Решение: _____</p> <p>Ответ: _____</p>
 Семья 1	 Семья 2																		
 Семья 3																			
ЗУБНАЯ ПАСТА	ПОЕЗДКА НА КУРОРТ	КОРМ ДЛЯ СОБАКИ																	
																			
		НОВАЯ МОДНАЯ КУРТКА																	
ОБЕД В КАФЕ	ХЛЕБ																		

		 <p>МЕТРО</p>	
2	<p>«Парные картинки». В ходе выполнения задания детям раскрывается <i>практическое значение понятий «опт» и «розница».</i></p> 	<p>Отгадайте названия валют</p> 	<p>Раскрась того, кто может купить часы.</p> 
3	<p>Задача Стоимость 1 минуты разговора по мобильному телефону на тарифе «Детский» составляет 40 копеек. Сколько минут можно разговаривать, по тарифу «Триумф», по цене 12 копеек в минуту за деньги, затраченные на 6 минут разговора по тарифу «Детский»?</p> <p>Это задача на нахождение четвертого пропорционального (типовая для начальной школы) и для ее решения можно воспользоваться вспомогательной моделью в виде таблицы, которую дети составляют под</p>	<p>Задача «Карты». В кошельке для пластиковых карт лежат разные карты.</p>  <p>1) 2) 3)</p> <p>Вопрос 1/2. Какой картой надо воспользоваться, чтобы рассчитаться при покупке продуктов в магазине? Укажи номер карты.</p> <p>Ответ: _____</p>	<p>Задача Рассмотри рисунок и ответь на вопрос: какую сдачу получил покупатель, расплатившийся за пакет молока, батон хлеба и бутылку кефира двумя купюрами в 100 рублей?</p>

	<p>руководством учителя.</p> <table border="1"> <thead> <tr> <th>Название тарифа</th> <th>цена</th> <th>время</th> <th>стоимость</th> </tr> </thead> <tbody> <tr> <td>Тариф «Детский»</td> <td>40 к.</td> <td>6 мин.</td> <td>?</td> </tr> <tr> <td>одинаковая</td> <td></td> <td></td> <td></td> </tr> <tr> <td>Тариф «Триумф»</td> <td>12 к.</td> <td>?</td> <td>?</td> </tr> </tbody> </table> <p>Решение: $(40 \times 6) : 12 = 20$ (мин.) Ответ: 20 минут.</p>	Название тарифа	цена	время	стоимость	Тариф «Детский»	40 к.	6 мин.	?	одинаковая				Тариф «Триумф»	12 к.	?	?	<p>Вопрос 2/2. Для чего нужна карта «Лента»?</p> <p>Ответ: _____</p>	 <p>МОЛОКО 69 р. КЕФИР 61 р. 52 р. 15 р. 35 р.</p> <p>Ответ: /55 руб./</p>
Название тарифа	цена	время	стоимость																
Тариф «Детский»	40 к.	6 мин.	?																
одинаковая																			
Тариф «Триумф»	12 к.	?	?																
<p>4</p>	<p>Задача В древние времена денег не существовало и люди, жившие племенами, обменивались товарами: продуктами, животными, вещами. Например, 1 топор можно было обменять на 10 стрел, или на 2 копья, или на 2 горшка, или на 1 овцу. А 10 стрел, соответственно, – на 1 топор, или на 2 копья, или на 2 горшка. Укажи в таблице:</p> <ol style="list-style-type: none"> Сколько племя получит стрел, обменяв 2 топора? Сколько оно получит копий, обменяв 3 топора? Сколько получит горшков, обменяв 5 топоров? Сколько получит овец, обменяв 10 топоров? Может ли племя на 6 стрел обменять 1 топор? Почему? Какой товар и в каком количестве может обменять племя на 1 копьё? 	<p>Задача У Иры было 100 рублей. Она купила шоколадку за 34 рубля и ей дали сдачу 56 рублей. Ира сравнила сумму сдачи, указанную в чеке и сумму денег, полученную от кассира, и попросила кассира не обманывать ее. Почему Ира так сказала кассиру? Какова сумма сдачи, указанная в ее чеке?</p>	<p>Задача Родители Оксаны составили в январе план на год, в котором решили потратить имеющиеся сбережения. План включал:</p> <ol style="list-style-type: none"> Март – отметить юбилей бабушки в кафе, 10 000 рублей. Июнь – отдых на море всей семьёй, 50 000 рублей. Август – путёвка для детей в лагерь отдыха, 12 000 рублей. Сентябрь, октябрь, ноябрь – обучение в автошколе, 7 000 рублей (всего за 3 месяца). Декабрь – полностью погасить кредит, 12 000 рублей. <p>Какое количество сбережений решили потратить родители Оксаны за год?</p>																